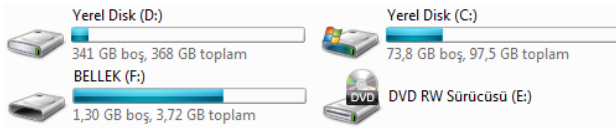
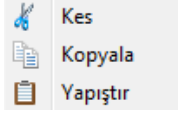


- 1) Aşağıdakilerden hangisi Windows İşletim Sisteminin genel özelliklerindedir?
a-) Görsel bir işletim sistemi olması
b-) Grafik tabanlı bir işletim sistemi olması
c-) Herhangi bir işlemin birden çok yöntemle yapılabilmesi
d-) Hepsisi
- 2) Aşağıdakilerden hangisi Windows işletim sistemine ait **Görev Çubuğu** üzerinde bulunmaz?
a-) Başlat menüsü
b-) Açık olan programlar
c-) Denetim masası simgeleri
d-) Tarih/saat simgesi
- 3) Windows'ta Bilgisayar, Kullanıcı Dosyaları gibi simgeler nereden gizlenip gösterilebilir?
a-) Başlat–Programlar–Donatılar
b-) Kişiselleştir – Masaüstü simgelerini değiştirin
c-) Bilgisayar – Denetim Masası – Masaüstü
d-) Bilgisayar – Denetim Masası – Kullanıcı Hesapları
- 4) Paint programını açmak için aşağıdaki seçeneklerden hangisi kullanılır?
a-) Başlat –Tüm Programlar – Donatılar– Sistem Araçları
b-) Başlat – Tüm Programlar – Donatılar
c-) Başlat – Belgeler
d-) Başlat – Belgeler – Donatılar
- 5) Bir dosyanın masaüstünde Kısayol simgesi nasıl oluşturulur?
a-) Sağ tuş – Gönder – Masaüstü Kısayol
b-) Düzen Menüsü – Kısayol oluştur
c-) Dosya Menüsü – Masaüstü Kısayol
d-) Sol tuş – Kısayol oluştur
- 6) Aşağıdakilerden hangisi yanlıştır?
a-) Windows'ta klasörler sarı renktedir
b-) Klasörler Bilgisayar simgesinin içine kopyalanamaz
c-) Dosyaları Klasörlerin içine kopyalayabiliriz
d-) Klasörleri dosyaların içerisine kopyalayabiliriz
- 7) Aşağıdakilerden hangisi dosya veya klasörlerin kopyalanması için geçerli bir yöntem değildir?
a-) Sağ tuş – Kopyala – Yapıştır
b-) Düzen menüsü – Kopyala -Yapıştır
c-) Klavyeden CTRL + C – CTRL + V
d-) Dosya menüsü – Kopyala – Yapıştır
- 8) Windows gezgini penceresini açmak için aşağıdakilerden hangisi kullanılmalıdır?
a-) Başlat– Sağ tuş – Windows Gezgini
b-) Başlat – Belgeler– Windows Gezgini
c-) Başlat– Tüm Programlar – Donatılar – Windows Gezgini
d-) Bilgisayar – Sağ tuş – Windows Gezgini



- 9) Yukarıdaki sürücülerin bulunduğu pencere aşağıdakilerden hangisidir?
a-) Denetim Masası
b-) Geri Dönüşüm Kutusu
c-) Bilgisayar
d-) Masaüstü



- 10) Yukarıdaki komutlar hangi menüde bulunur?
- a-) Düzen
 - b-) Dosya
 - c-) Görünüm
 - d-) Araçlar



- 11) Yukarıdaki simgelerden sıralanışı hangi seçenekte doğru olarak verilmiştir?
- a-) İleri – Geri – Son Sayfalar
 - b-) Geri – İleri – Son Sayfalar
 - c-) Son Sayfalar – İleri – Geri
 - d-) Geri – Son Sayfalar – İleri



- 12) Yukarıdaki simgelerden doğru sıralanışı hangi seçenekte doğru olarak verilmiştir?
- a-) Simge Durumuna– Kapat – Aşağı Geri Getir
 - b-) Kapat – Aşağı Geri Getir – Simge Durumuna
 - c-) Simge Durumuna – Aşağı Geri Getir – Kapat
 - d-) Aşağı Geri Getir – Simge Durumuna– Kapat

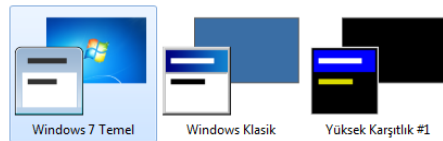
- 13) Fare – Klavye – yazıcı gibi uygulamaların kişisel ayarları nerden yapılır?
- a-) Windows Gezgini
 - b-) Bilgisayar simgesi
 - c-) Geri Dönüşüm Kutusu
 - d-) Denetim Masası

- 14) Masa üstünde bir Kısayol'un adını değiştirmek için, aşağıdaki Kısayol tuşlarından hangisi kullanılır?
- a-) F1
 - b-) F2
 - c-) F3
 - d-) F4



- 15) Yukarıdaki Klasör yapısına göre aşağıdakilerden hangisi **doğrudur**?
- a-) EGE klasörü içerisinde 2 adet dosya vardır.
 - b-) EGE klasörü İZMİR klasörünün alt klasörüdür
 - c-) İZMİR klasörü DENİZLİ klasörünün içerisinde yer almaktadır
 - d-) EGE klasörünün 2 adet alt klasörü vardır

Temel ve Yüksek Karşıtlık Temaları (6)



- 16) Yukarıdaki Windows7 temalarının bulunduğu simgelere nereden erişebiliriz?
- a-) Masaüstünde sağ tuş – Kişiselleştir
 - b-) Başlat – Aygıtlar ve yazıcılar
 - c-) Bilgisayar simgesi – Windows temaları
 - d-) Başlat – Tüm Programlar – Donatılar





- 17) Yandaki masaüstü öğesinin görevi nedir?
a-) Bilgisayarım
b-) Belgelerim
c-) Geri dönüşüm kutusu
d-) Internet Explorer





Denetim Masası


- 18) Yukarıdaki simgenin görevi nedir?
a-) Kullanıcıların kayıt ettiği belgelerin tutulduğu yerdir
b-) Silinen dosya ve klasörlerin tutulduğu yerdir
c-) Kullanıcının kendi kişisel ayarlarını tanımladığı yerdir.
d-) Başka bilgisayarlarla bağlantı kurabilmek için ayarlamaların yapıldığı yerdir


- 19)  Yandaki düğmelerin anlamları aşağıdakilerden hangisidir?
a-) Simge Durumuna– Ekranı Kapla– Kapat
b-) Kapat – Simge Durumuna– Aşağı Geri Getir
c-) Simge Durumuna– Kapat – Aşağı Geri Getir
d-) Kapat – Aşağı Geri Getir – Simge Durumuna


- 20)  Yandaki düğmelerin anlamları aşağıdakilerden hangisidir?
a) Simge Durumuna– Aşağı geri getir – Kapat
b) Kapat – Simge Durumuna– Aşağı Geri Getir
c) Simge Durumuna– Kapat – Aşağı Geri Getir
d) Kapat – Ekranı kapla – Simge Durumuna

- 21)  Yandaki simgenin anlamı aşağıdakilerden hangisidir?
a-) Kapat
b-) Yardım
c-) Çalıştır
d-) Ara

- 22)  Yandaki düğmelerin anlamı aşağıdaki seçeneklerden hangisinde doğru olarak verilmiştir?
a-) Ekranı Kapla – Kapat
b-) Simge Durumuna – Kapat
c-) Aşağı Geri Getir – Kapat
d-) Yardım – Kapat

- 23)  Yandaki düğmenin adı aşağıdakilerden hangisidir?
a-) Aşağı Geri Getir
b-) Kapat
c-) Simge Durumuna
d-) Önceki Boyut

- 24)  Yandaki düğmenin adı aşağıdakilerden hangisidir?
a-) Aşağı Geri Getir
b-) Kapat
c-) Simge Durumuna
d-) Önceki Boyut

- 25)  Yandaki düğmenin anlamı aşağıdakilerden hangisidir?
a-) Aşağı Geri Getir
b-) Kapat
c-) Simge Durumuna
d-) Ekranı Kapla